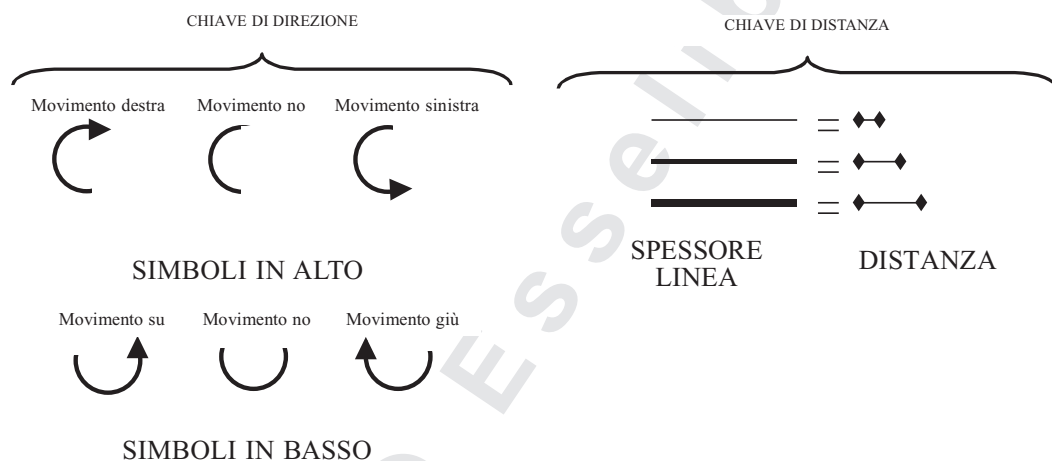
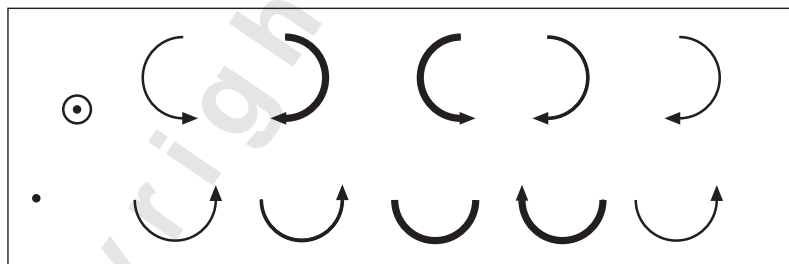


## TEST DEI MOVIMENTI COMPLESSI

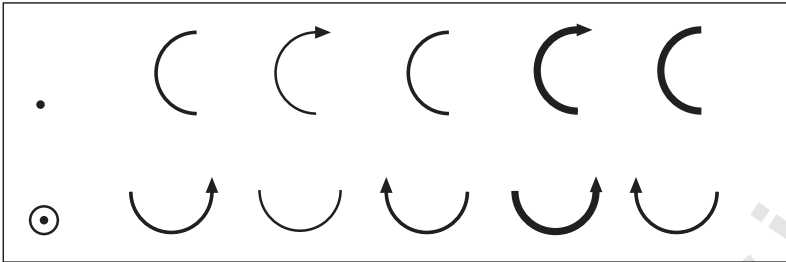
Il test in argomento è volto a misurare l'abilità nel *giudicare le distanze e nel visualizzare i movimenti*. Vengono fornite 5 coppie di simboli che rappresentano direzioni e distanze, il candidato dovrà scegliere l'unica coppia che rappresenta la distanza e la direzione di un movimento per spostare un *punto* dall'esterno verso il *centro del cerchio*, in base al significato delle seguenti chiavi.



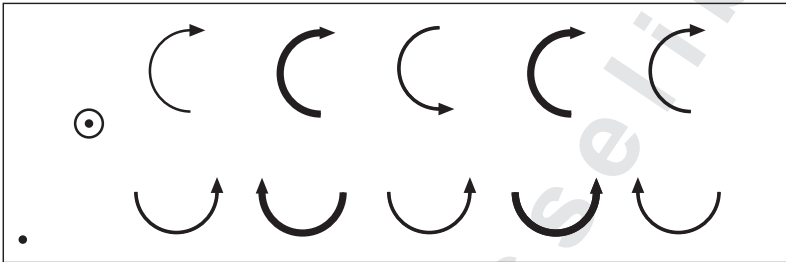
- 1)       A)       B)       C)       D)       E)



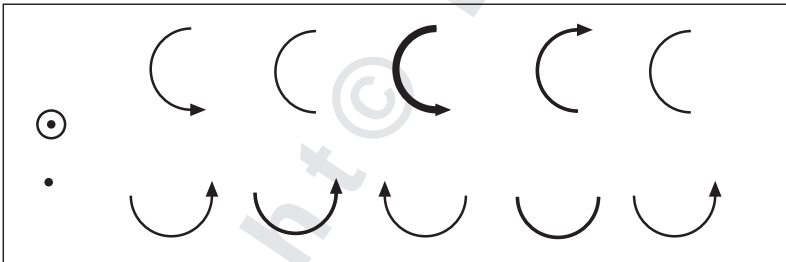
2)       A)     B)     C)     D)     E)



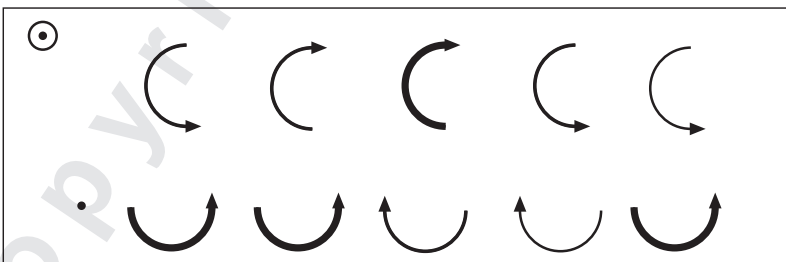
3)       A)     B)     C)     D)     E)



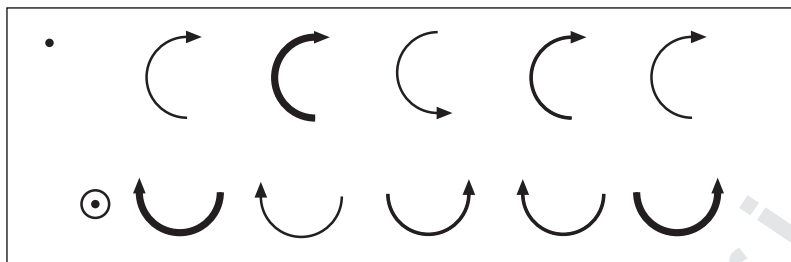
4)       A)     B)     C)     D)     E)



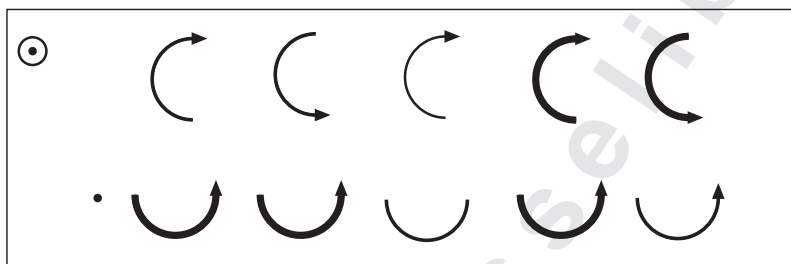
5)       A)     B)     C)     D)     E)



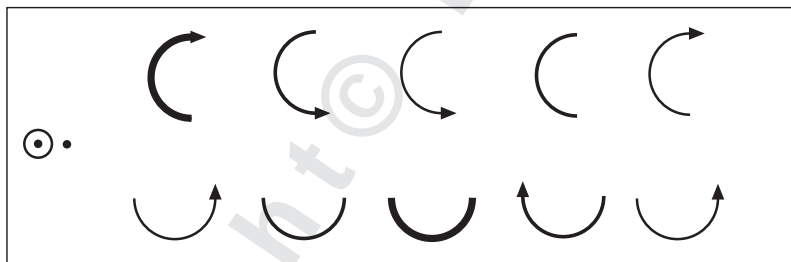
- 6)       A)     B)     C)     D)     E)



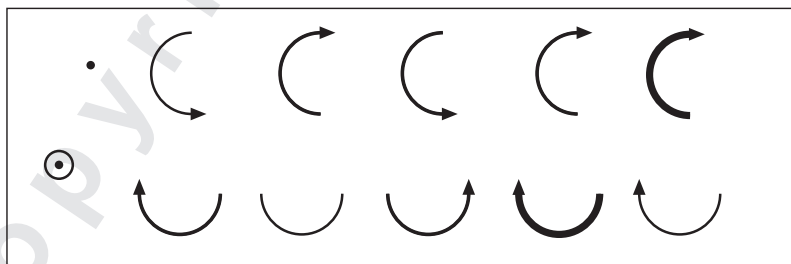
- 7)       A)     B)     C)     D)     E)



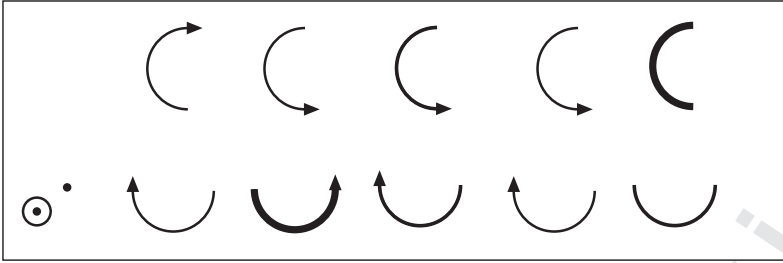
- 8)       A)     B)     C)     D)     E)



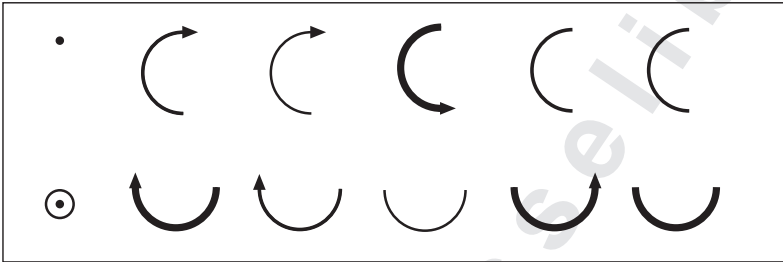
- 9)       A)     B)     C)     D)     E)



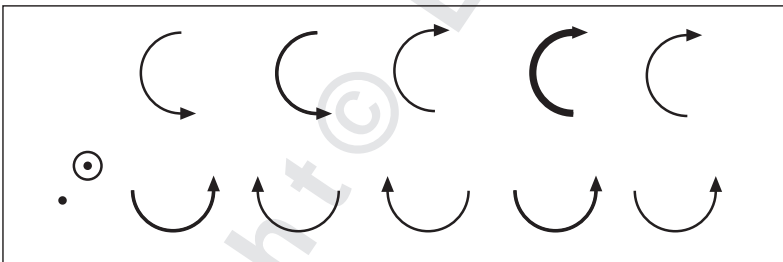
10)       A)       B)       C)       D)       E)



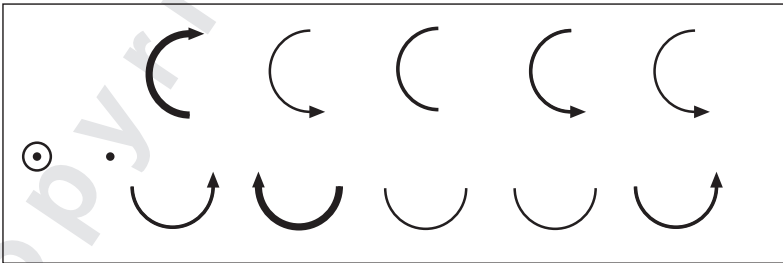
11)       A)       B)       C)       D)       E)



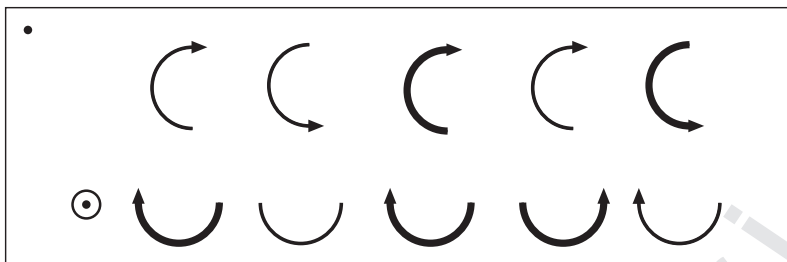
12)       A)       B)       C)       D)       E)



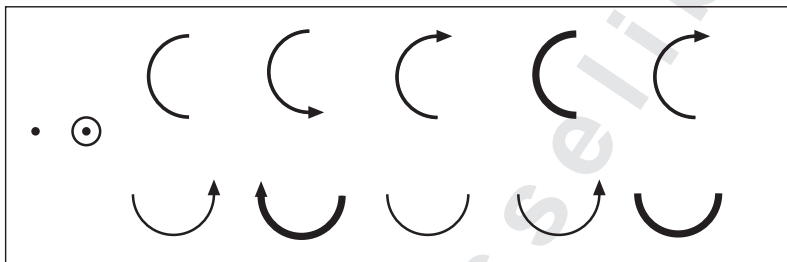
13)       A)       B)       C)       D)       E)



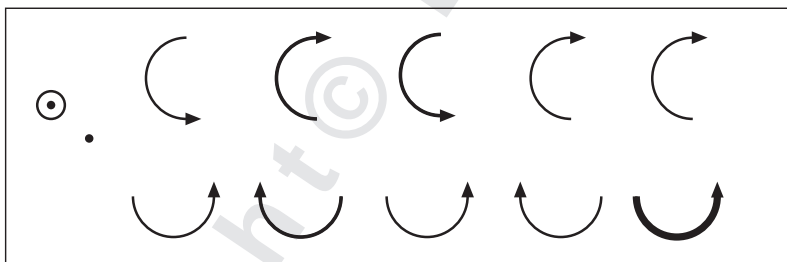
14)  A)  B)  C)  D)  E)



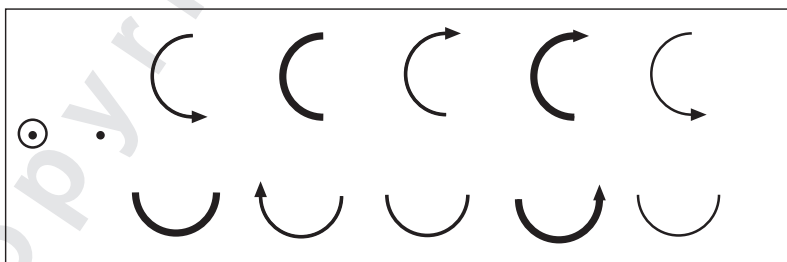
15)  A)  B)  C)  D)  E)



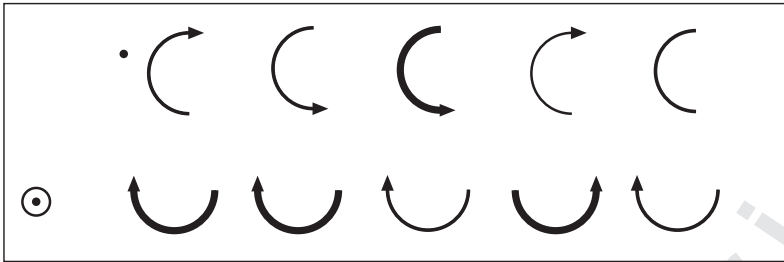
16)  A)  B)  C)  D)  E)



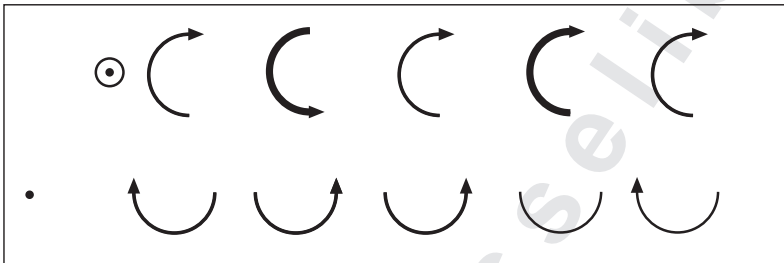
17)  A)  B)  C)  D)  E)




18)  A)  B)  C)  D)  E)



19)  A)  B)  C)  D)  E)



20)  A)  B)  C)  D)  E)



## RISPOSTE

- |                       |                        |                        |
|-----------------------|------------------------|------------------------|
| 1) Risposta esatta: E | 8) Risposta esatta: C  | 15) Risposta esatta: C |
| 2) Risposta esatta: C | 9) Risposta esatta: A  | 16) Risposta esatta: A |
| 3) Risposta esatta: D | 10) Risposta esatta: D | 17) Risposta esatta: A |
| 4) Risposta esatta: E | 11) Risposta esatta: E | 18) Risposta esatta: B |
| 5) Risposta esatta: A | 12) Risposta esatta: E | 19) Risposta esatta: C |
| 6) Risposta esatta: A | 13) Risposta esatta: D | 20) Risposta esatta: C |
| 7) Risposta esatta: B | 14) Risposta esatta: C |                        |